



# EXAMEN TEÓRICO

Categoría MANUAL DEL CONDUCTOR

- 1 ¿Cuántos años de vigencia tiene una licencia?
- |   |        |    |
|---|--------|----|
| 1 | 5 años | SI |
| 2 | 3 años | NO |
| 3 | 4 años | NO |
- 2 La señal Pare, ¿Qué significa para usted?
- |   |                                     |    |
|---|-------------------------------------|----|
| 1 | Detener momentáneamente su vehículo | NO |
| 2 | Detener totalmente su vehículo      | SI |
| 3 | Ceder el paso a otro vehículo       | NO |
- 3 Toda señal reglamentaria que tenga un círculo rojo con una raya diagonal con el mismo color, ¿Qué significa?
- |   |                       |    |
|---|-----------------------|----|
| 1 | Que está permitido    | NO |
| 2 | Que no está permitido | SI |
| 3 | Ninguno               | NO |
- 4 La señal de curva peligrosa, ¿Qué significa en cuanto a la velocidad?
- |   |                                 |    |
|---|---------------------------------|----|
| 1 | Que debe acelerar               | NO |
| 2 | Que debe parar                  | NO |
| 3 | Que debe disminuir la velocidad | SI |
- 5 La luz intermitente de color amarilla, significa que:
- |   |   |    |
|---|---|----|
| 1 | Acelerar la marcha del vehículo                           | NO |
| 2 | Proseguir con precaución observando ambos lados de la vía | SI |
| 3 | Parar la marcha del vehículo                              | NO |
- 6 La luz intermitente de color rojo, significa que:
- |   |  |    |
|---|--|----|
| 1 | Acelerar la marcha del vehículo                        | NO |
| 2 | Proseguir con precaución                               | NO |
| 3 | Para la marcha del vehículo y continuar con precaución | SI |
- 7 ¿Cómo se debe estacionar cuesta arriba con acera?
- |   |  |    |
|---|--|----|
| 1 | Ruedas delanteras contrarias a la acera, freno de mano y el vehículo que no esté en neutro | SI |
| 2 | Ruedas con dirección a la cuesta paralelo a la acera                                       | NO |
| 3 | Dejar la dirección de las ruedas a su consideración  | NO |
- 8 ¿Qué color tiene una señal reglamentaria?
- |   |                      |    |
|---|----------------------|----|
| 1 | Blanco, Negro y Rojo | SI |
| 2 | Amarillo con Negro   | NO |
| 3 | Azul con Blanco      | NO |
| 4 | Verde con Blanco     | NO |



# EXAMEN TEÓRICO

Categoría MANUAL DEL CONDUCTOR

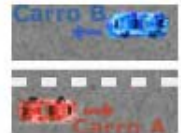

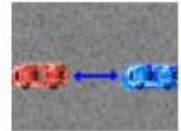
- 9 ¿Qué color tiene una señal Preventiva?
- |   |                    |    |
|---|--------------------|----|
| 1 | Amarillo con negro | SI |
| 2 | Azul con Blanco    | NO |
| 3 | Verde con Blanco   | NO |
- 10 ¿Qué color tiene una señal Informativa?
- |   |                      |    |
|---|----------------------|----|
| 1 | Azul, Blanco y Negro | SI |
| 2 | Blanco con Rojo      | NO |
| 3 | Amarillo con Negro   | NO |
- 11 ¿Qué señal debe usted obedecer sobre las demás?
- |   |                             |    |
|---|-----------------------------|----|
| 1 | Semáforo en rojo            | NO |
| 2 | Señal Pare                  | NO |
| 3 | La de un Agente de Tránsito | SI |
- 12 ¿Cuándo se considera abandonado un vehículo en los sitios donde existe señal de prohibido estacionarse?
- |   |            |    |
|---|------------|----|
| 1 | 5 minutos  | SI |
| 2 | 10 minutos | NO |
| 3 | 1 minuto   | NO |
- 13 Considere dos lugares donde es prohibido rebasar
- |   |                                    |    |
|---|------------------------------------|----|
| 1 | Puentes                            | SI |
| 2 | Pendientes                         | SI |
| 3 | Avenidas principales de 6 carriles | NO |
| 4 | En vías con líneas discontinuas    | NO |
- 14 Al escuchar la sirena de una ambulancia que actitud tomaría
- |   |   |    |
|---|---|----|
| 1 | Acelerar la marcha de su vehículo                                     | NO |
| 2 | Competiría con la ambulancia  | NO |
| 3 | Cedería el paso a la ambulancia                                       | SI |
| 4 | Se adelantaría a la ambulancia y con su ayuda adelante abriría camino | NO |
- 15 Indique los colores de luces que tiene un semáforo
- |   |                          |    |
|---|--------------------------|----|
| 1 | Rojo, amarillo y verde   | SI |
| 2 | Rojo, azul y verde       | NO |
| 3 | Verde, rojo y anaranjado | NO |
- 16 Con la licencia tipo B, ¿Qué clase de vehículo le faculta a usted conducir?
- |   |  |    |
|---|--|----|
| 1 | Vehículo liviano con placa de alquiler | NO |
| 2 | Vehículo liviano con placa particular  | SI |



# EXAMEN TEÓRICO

Categoría MANUAL DEL CONDUCTOR

- 17 Con la licencia tipo C, ¿Qué clase de vehículo le faculta a usted conducir?
- 1 Vehículos extra pesados NO
  - 2 Vehículo liviano con placa particular y placa de alquiler SI
- 18 Con la licencia tipo F, ¿Qué clase de vehículo le faculta a usted conducir?
- 1 Automotores especiales adaptados para discapacitados SI
  - 2 Automotores y camionetas con acoplados de hasta 1750 kg. de peso NO
- 19 En una vía de dos carriles en un mismo sentido, debo circular...
- 1 Siempre por el carril derecho SI
  - 2 Siempre por el carril izquierdo NO
  - 3 En Zigzag NO
- 20 En una vía de dos carriles en un mismo sentido, debo rebasar...
- 1 Por el carril derecho NO
  - 2 Por el carril izquierdo SI
  - 3 Por cualquier carril NO
- 21 ¿A qué distancia su vehículo debe permanecer con respecto al automotor que se encuentra delante en una vía mientras usted conduce?
- 1 Un Metro NO
  - 2 Dos Metros NO
  - 3 Tres Metros SI
- 22 Cuando observa una línea continua en la calzada usted debe:
- 1 Rebasar NO
  - 2 Cambiarse de Carril NO
  - 3 Mantener el Carril SI
- 23 ¿Cuándo observa una línea discontinua en la calzada usted puede rebasar?
- 1 SI SI
  - 2 NO NO
- 24 Observe el gráfico y responda lo que significa.
- 1 Que el vehículo A puede rebasar y el B no puede. SI
  - 2 Que el vehículo B puede rebasar y el A no puede. NO
  - 3 Que ambos pueden rebasar. NO
  - 4 Que ninguno de los dos vehículos puede rebasar. NO





# EXAMEN TEÓRICO

Categoría SEÑALIZACIÓN DE TRÁNSITO

25 Elija la descripción correcta de la señal

- 1 Doble Circulación
- 2 Vía Lateral
- 3 Curva Pronunciada

NO  
NO  
SI



26 Elija la descripción correcta de la señal

- 1 Depresión
- 2 Puente móvil
- 3 Curva Peligrosa

NO  
NO  
SI



27 Elija la descripción correcta de la señal

- 1 Camino sinuoso
- 2 Bifurcación en Y
- 3 Intersección Rotatoria

SI  
NO  
NO



28 Elija la descripción correcta de la señal

- 1 Curva Pronunciada en S
- 2 Camino Sinuoso
- 3 Curva Peligrosa

SI  
NO  
NO



29 Elija la descripción correcta de la señal

- 1 Curva y Contra curva
- 2 Ciclistas
- 3 Bifurcación en Y

SI  
NO  
NO



30 Elija la descripción correcta de la señal

- 1 Cruce de Vías
- 2 Cruz de San Andrés
- 3 Flecha Direccional

SI  
NO  
NO



31 Elija la descripción correcta de la señal

- 1 Vía Lateral
- 2 Empalmes contraria
- 3 Curva Pronunciada

SI  
NO  
NO



32 Elija la descripción correcta de la señal

- 1 Flecha Direccional
- 2 Bifurcación en Y
- 3 Bifurcación en T

NO  
NO  
SI



33 Elija la descripción correcta de la señal

- 1 Bifurcación en Y
- 2 Cruz de San Andrés
- 3 Zona de Derrumbe

SI  
NO  
NO





# EXAMEN TEÓRICO

Categoría SEÑALIZACIÓN DE TRÁNSITO

34 Elija la descripción correcta de la señal

- 1 Camino Sinuoso
- 2 Cuidado con los animales
- 3 Bifurcación en Y

NO  
NO  
SI



35 Elija la descripción correcta de la señal

- 1 Vía Lateral
- 2 Intersección Rotatoria
- 3 Incorporación de Tránsito

NO  
SI  
NO



36 Elija la descripción correcta de la señal

- 1 Curva Pronunciada
- 2 Tranvía
- 3 Incorporación de Tránsito

NO  
NO  
SI



37 Elija la descripción correcta de la señal

- 1 Bifurcación en Y
- 2 Proximidad de Semáforo
- 3 Pare

NO  
SI  
NO



38 Elija la descripción correcta de la señal

- 1 Tranvía
- 2 Zona Escolar
- 3 Fin de Camino Dividido

SI  
NO  
NO



39 Elija la descripción correcta de la señal

- 1 Camino áspero
- 2 Resalto o Lomada
- 3 Depresión

SI  
NO  
NO



40 Elija la descripción correcta de la señal

- 1 Calzada Estrecha
- 2 Resalto o Lomada
- 3 Vía Lateral

NO  
SI  
NO



41 Elija la descripción correcta de la señal

- 1 Tranvía
- 2 Vía Lateral
- 3 Depresión

NO  
NO  
SI



42 Elija la descripción correcta de la señal

- 1 Pendiente Peligrosa
- 2 Depresión
- 3 Vía Lateral

SI  
NO  
NO





# EXAMEN TEÓRICO

Categoría SEÑALIZACIÓN DE TRÁNSITO

43 Elija la descripción correcta de la señal

- 1 Calzada Estrecha
- 2 Pare
- 3 Proximidad de Alto

SI  
NO  
NO



44 Elija la descripción correcta de la señal

- 1 Bifurcación en Y
- 2 Camino Estrecho
- 3 Puente Angosto

NO  
NO  
SI



45 Elija la descripción correcta de la señal

- 1 Viento Lateral
- 2 Puente Móvil
- 3 Zona Escolar

NO  
SI  
NO



46 Elija la descripción correcta de la señal

- 1 Cruce de peatones
- 2 Zona de derrumbe
- 3 Obras

NO  
NO  
SI



47 Elija la descripción correcta de la señal

- 1 Doble Circulación
- 2 Puente Angosto
- 3 Incorporación al Tránsito

SI  
NO  
NO



48 Elija la descripción correcta de la señal

- 1 Camino sinuoso
- 2 Ancho limitado
- 3 Flecha direccional

NO  
NO  
SI



49 Elija la descripción correcta de la señal

- 1 Viento Lateral
- 2 Cruz de San Andrés
- 3 Zona de Derrumbe

NO  
NO  
SI



50 Elija la descripción correcta de la señal

- 1 Puente angosto
- 2 Calzada Resbaladiza
- 3 Proyección de Gravilla

NO  
SI  
NO



51 Elija la descripción correcta de la señal

- 1 Proyección de Gravilla
- 2 Ciclistas
- 3 Ancho Limitado

NO  
SI  
NO





# EXAMEN TEÓRICO

Categoría SEÑALIZACIÓN DE TRÁNSITO

52 Elija la descripción correcta de la señal

- 1 Curva Pronunciada
- 2 Cuidado con los animales
- 3 Paso de Maquinaria Agrícola

NO  
NO  
SI



53 Elija la descripción correcta de la señal

- 1 Cruce de Peatones
- 2 Camino Áspero
- 3 Aeroplanos

SI  
NO  
NO



54 Elija la descripción correcta de la señal

- 1 Camino Sinuoso
- 2 Zona Escolar
- 3 Fin de Camino Dividido

NO  
SI  
NO



55 Elija la descripción correcta de la señal

- 1 Intersección Rotatoria
- 2 Niños
- 3 Cruce de Vías

NO  
SI  
NO



56 Elija la descripción correcta de la señal

- 1 Camino Sinuoso
- 2 Cuidado con los animales
- 3 Fin de Camino Dividido

NO  
SI  
NO



57 Elija la descripción correcta de la señal

- 1 Zona Escolar
- 2 Tranvía
- 3 Altura Limitada

NO  
NO  
SI



58 Elija la descripción correcta de la señal

- 1 Ancho Limitado
- 2 Cruz de San Andrés
- 3 Zona de Derrumbe

SI  
NO  
NO



59 Elija la descripción correcta de la señal

- 1 Curva y Contra curva
- 2 Cruce con Vía Férrea, a nivel sin barrera
- 3 Puente Angosto

NO  
SI  
NO



60 Elija la descripción correcta de la señal

- 1 Puente Móvil
- 2 Cuidado con los animales
- 3 Cruce con Vía Férrea, a nivel con barrera

NO  
NO  
SI





# EXAMEN TEÓRICO

Categoría SEÑALIZACIÓN DE TRÁNSITO

61 Elija la descripción correcta de la señal

- 1 Proyección de Gravilla
- 2 Curva Pronunciada
- 3 Comienzo de camino dividido

NO  
NO  
SI



62 Elija la descripción correcta de la señal

- 1 Pare, Alto
- 2 Prohibido Girar en U
- 3 Altura Máxima permitida

SI  
NO  
NO



63 Elija la descripción correcta de la señal

- 1 Prohibido el Paso de Bicicletas
- 2 Longitud máxima permitida
- 3 Ceda el paso

NO  
NO  
SI



64 Elija la descripción correcta de la señal

- 1 Prohibido estacionarse
- 2 Prohibido seguir adelante
- 3 Doble vía próxima

NO  
SI  
NO



65 Elija la descripción correcta de la señal

- 1 Prohibido girar a la izquierda
- 2 Prohibido girar a la derecha
- 3 Prohibido el cambio de carril

SI  
NO  
NO



66 Elija la descripción correcta de la señal

- 1 Silencio
- 2 Giro a la derecha solamente
- 3 Prohibido girar a la derecha

NO  
NO  
SI



67 Elija la descripción correcta de la señal

- 1 Prohibido seguir adelante
- 2 Prohibido estacionar
- 3 Prohibido girar en U

NO  
NO  
SI



68 Elija la descripción correcta de la señal

- 1 Conserve su derecha
- 2 Prohibido Estacionar
- 3 Conserve su derecha

NO  
SI  
NO



69 Elija la descripción correcta de la señal

- 1 Estacionamiento reglamentado
- 2 Ceda el Paso
- 3 Carga Máxima Permitida

SI  
NO  
NO







# EXAMEN TEÓRICO

Categoría SEÑALIZACIÓN DE TRÁNSITO

70 Elija la descripción correcta de la señal

- 1 Velocidad Máxima
- 2 Prohibido Adelantar
- 3 Conserve su Derecha

NO  
SI  
NO



71 Elija la descripción correcta de la señal

- 1 Circulación Obligatoria
- 2 Prohibido Rebasar
- 3 Prohibido el Cambio de Carril

NO  
NO  
SI



72 Elija la descripción correcta de la señal

- 1 Prohibido el paso de Vehículos de Carga
- 2 Ceda el Paso
- 3 Pare, Alto

SI  
NO  
NO



73 Elija la descripción correcta de la señal

- 1 Prohibido girar a la izquierda
- 2 Prohibido el paso de vehículos automotores
- 3 Prohibido Rebasar

NO  
SI  
NO



74 Elija la descripción correcta de la señal

- 1 Prohibido el Paso de Bicicletas
- 2 Doble Vía Próxima
- 3 Prohibido girar a la derecha

SI  
NO  
NO



75 Elija la descripción correcta de la señal

- 1 Prohibido el paso de vehículos automotores
- 2 Prohibido el paso de maquinaria agrícola
- 3 Prohibido el paso de vehículos de carga

NO  
SI  
NO



76 Elija la descripción correcta de la señal

- 1 Longitud máxima
- 2 Ancho máximo permitido
- 3 Altura máxima permitida

NO  
NO  
SI



77 Elija la descripción correcta de la señal

- 1 Prohibido el Paso de Bicicletas
- 2 Ancho máximo Permitido
- 3 Siga de Frente

NO  
SI  
NO



78 Elija la descripción correcta de la señal

- 1 Prohibido Adelantar
- 2 Peso permitido por Eje
- 3 Circulación Obligatoria

NO  
SI  
NO





# EXAMEN TEÓRICO

Categoría SEÑALIZACIÓN DE TRÁNSITO

79 Elija la descripción correcta de la señal

- 1 Longitud Máxima Permitida
- 2 Ancho Máximo Permitido
- 3 Prohibido Estacionar y Detenerse

SI  
NO  
NO



80 Elija la descripción correcta de la señal

- 1 Prohibido Girar en U
- 2 Circulación Obligatoria
- 3 Velocidad Máxima

NO  
NO  
SI



81 Elija la descripción correcta de la señal

- 1 Silencio
- 2 Siga de Frente
- 3 Altura Máxima Permitida

SI  
NO  
NO



82 Elija la descripción correcta de la señal

- 1 Tránsito pesado carril derecho
- 2 Conserve su Derecha
- 3 Velocidad máxima permitida

NO  
SI  
NO



83 Elija la descripción correcta de la señal

- 1 Pare
- 2 Giro a la derecha solamente
- 3 Siga de Frente

NO  
SI  
NO



84 Elija la descripción correcta de la señal

- 1 Longitud Máxima Permitida
- 2 Siga de Frente
- 3 Prohibido Estacionar y Detenerse

NO  
SI  
NO



85 Elija la descripción correcta de la señal

- 1 Tránsito pesado carril derecho
- 2 Circulación Obligatoria
- 3 Doble vía próxima

SI  
NO  
NO



86 Elija la descripción correcta de la señal

- 1 Siga de Frente
- 2 Doble vía Próxima
- 3 Prohibido Estacionarse

NO  
SI  
NO



87 Elija la descripción correcta de la señal

- 1 Siga de frente
- 2 Circulación Obligatoria
- 3 Prohibido el paso de peatones

NO  
NO  
SI





# EXAMEN TEÓRICO

Categoría SEÑALIZACIÓN DE TRÁNSITO

88 Elija la descripción correcta de la señal

- 1 Tránsito pesado carril derecho
- 2 Peatones deben caminar por la izquierda
- 3 Doble vía próxima

NO  
SI  
NO



89 Elija la descripción correcta de la señal

- 1 Direcciones y distancias o lugares importantes
- 2 Hotel
- 3 Servicio de restaurante

SI  
NO  
NO



90 Elija la descripción correcta de la señal

- 1 Señal de Localización
- 2 Vía Cerrada
- 3 Ruta Nacional Local

SI  
NO  
NO



91 Elija la descripción correcta de la señal

- 1 Puesto de Socorro
- 2 Estacionamiento Permitido
- 3 Sentido de Circulación

NO  
NO  
SI



92 Elija la descripción correcta de la señal

- 1 Estacionamiento Permitido
- 2 Aeropuerto
- 3 Servicio Mecánica

SI  
NO  
NO



93 Elija la descripción correcta de la señal

- 1 Servicio Sanitario
- 2 Servicio Telefónico
- 3 Vía Abierta

NO  
SI  
NO



94 Elija la descripción correcta de la señal

- 1 Aeropuerto
- 2 Servicio Mecánica
- 3 Ceda el Paso

NO  
SI  
NO



95 Elija la descripción correcta de la señal

- 1 Ruta Nacional o Local
- 2 Servicio de Gasolina
- 3 Vía Abierta

NO  
SI  
NO



# EXAMEN TEÓRICO

Categoría SEÑALIZACIÓN DE TRÁNSITO

96 Elija la descripción correcta de la señal

- 1 Parada de BUS
- 2 Camping
- 3 Puesto de Socorro

NO  
NO  
SI



97 Elija la descripción correcta de la señal

- 1 Servicio Sanitario
- 2 Servicio Mecánico
- 3 Aeropuerto

SI  
NO  
NO



98 Elija la descripción correcta de la señal

- 1 Servicio de Restaurante
- 2 Hotel
- 3 Vía Cerrada

SI  
NO  
NO

99 Elija la descripción correcta de la señal

- 1 Servicio Mecánico
- 2 Hotel
- 3 Servicio Sanitario

NO  
SI  
NO



100 Elija la descripción correcta de la señal

- 1 Servicio de Transbordador
- 2 Aeropuerto
- 3 Estacionamiento Permitido

NO  
SI  
NO



101 Elija la descripción correcta de la señal

- 1 Servicio de transbordador
- 2 Camping
- 3 Parada de bus

NO  
NO  
SI



# EXAMEN TEÓRICO

Categoría SEÑALIZACIÓN DE TRÁNSITO

102 Elija la descripción correcta de la señal

- 1 Parada de BUS
- 2 Servicio de Gasolina
- 3 Paso Peatonal Protegido

NO  
NO  
SI



103 Observe la imagen. En una Zona de Seguridad de Peatones, debo detener la marcha del vehículo...

- 1 Antes de la Línea 1
- 2 Antes de la Línea 2
- 3 Entre la Línea 1 y Línea 2

NO  
SI  
NO

